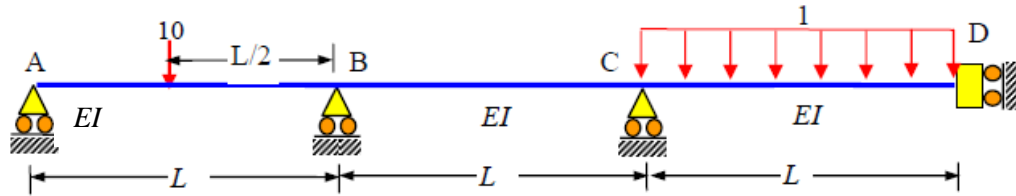
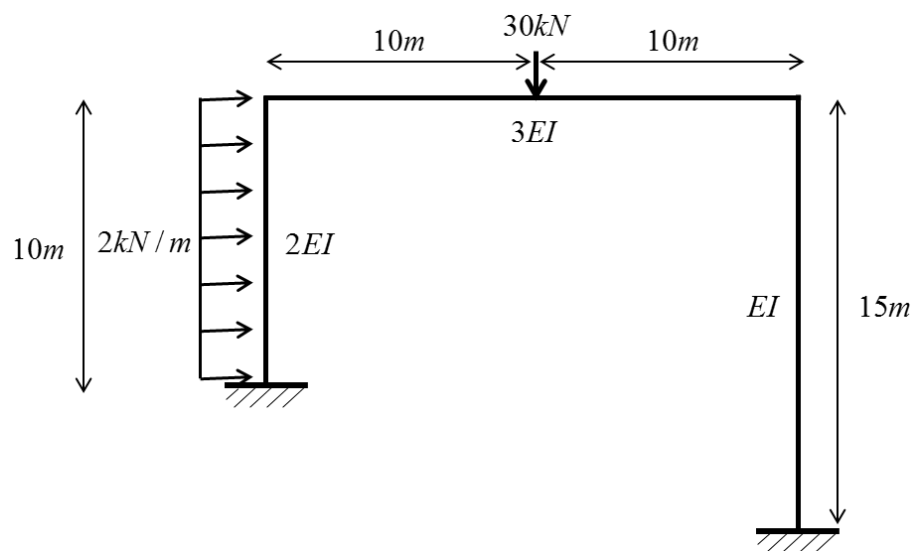


Homework 3

1. 다음 구조물을 Gauss-Seidal 방법에 기초한 모멘트 분배법으로 해석하시오. ($L=10$)

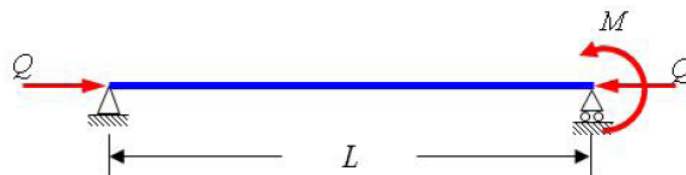


2. 다음 프레임 구조물을 모멘트 분배법으로 해석하시오.



다음 구조물의 처짐함수와 좌굴하중을 구하시오.

- 3.



- 4.

